

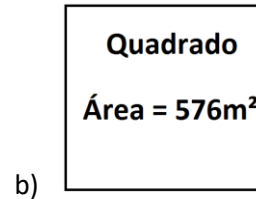
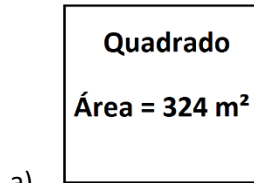


Aluno (a): _____ n.º: _____

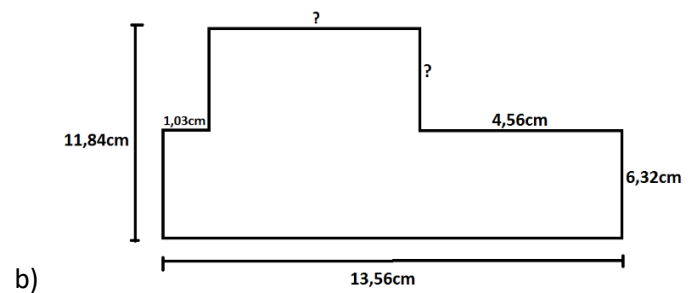
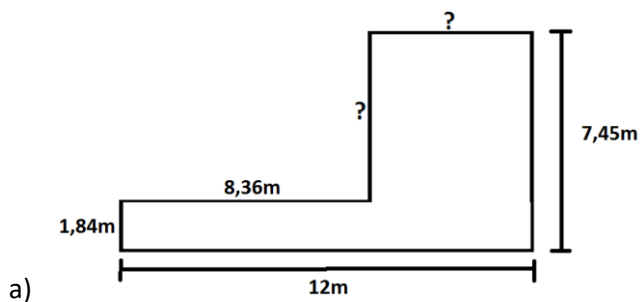
Professor(a): Diego Felix Data: ___/___/___ Turma: _____

Quarta Lista de exercícios do terceiro trimestre.

- 1) Calcule primeiro o lado e, em seguida, o perímetro das figuras abaixo:



- 2) Calcule a área da figura abaixo:



- 3) Calcule: (os quocientes serão decimais exatos)

- a) $6,88 : 3,2$
- b) $7,564 : 0,4$
- c) $0,04 : 1,6$
- d) $9,112 : 3,4$

- 4) Calcule o quociente aproximado com erro menor que $\frac{1}{100}$.

- a) $23 : 30$
- b) $37 : 15$

- 5) Calcule quociente aproximado com erro menor que $\frac{1}{1000}$.

- a) $13 : 7$
- b) $45 : 63$

Gabarito

1-

a) Lado = 18m Perímetro = 72m

b) Lado = 24m Perímetro = 96m

2-

a) 42,5004 m²

b) 129,6936cm²

3-

a) 2,15

b) 18,91

c) 0,025

d) 2,68

4-

a) 0,76

b) 0,46

5-

a) 1,857

b) 0,714