



COLÉGIO SÃO VICENTE DE PAULO



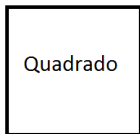
Aluno (a): _____ n.º: _____

Professor(a): Diego Felix Data: ___/___/___ Turma: _____

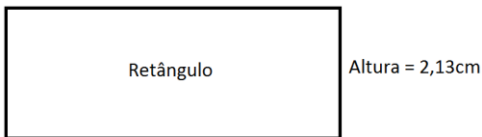
Segunda lista de exercícios do terceiro trimestre.

Observação: é recomendável terminar os exercícios da página 228 primeiro.

1) Calcule a área das figuras abaixo:

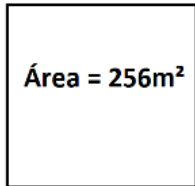


a) $l = 2,4\text{m}$



b) $\text{Comprimento} = 4,26\text{cm}$

2) Observe o quadrado abaixo e calcule o seu perímetro:



3) Observe o quadrado abaixo e calcule a sua área:



Perímetro = 48m

4) O metro de corda, na casa de materiais de construção do bairro do Sr. Arnaldo, custa R\$ 1,20. Se o Sr. Arnaldo resolver comprar 7,25 metros desta corda, de quantos reais ele precisará?

Gabarito

- 1) a) $5,76\text{m}^2$ b) $9,0738\text{cm}^2$
- 2) $2p = 64\text{m}$
- 3) Área = 144m^2
- 4) R\$ = 8,70