



Aluno (a): _____ n.º: _____

Professor (a): **RAPHAEL LIMA** _____ Data: ____/____/____ Turma: _____

Lista 2 de exercícios


QUESTÃO 1: Com auxílio do compasso, desenhe a mediatriz de cada um dos segmentos de reta abaixo:



c)



d)



QUESTÃO 2 : Utilizando o compasso e a régua, desenhe 3 segmentos congruentes aos segmentos abaixo:

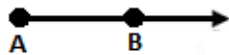


a)




b)



QUESTÃO 3: Observe os desenhos abaixo e coloque os símbolos corretos que represente os segmentos de reta, as retas e as semirretas.



QUESTÃO 5: Viver no campo!



Dois amigos brincam todas as tardes no campo, perto das suas casas. Tentam sempre se despedirem num ponto que esteja em uma distância igual das duas casas, ou seja, uma linha reta que passasse exatamente no meio entre essas duas casas.

Desenhe esta linha passando exatamente no meio, ajudando aos dois amigos a saberem onde podem se despedir. (dica: ligue os pontos A e B para auxiliar o desenho desta reta notando que depois construirá uma mediatriz).